

Муниципальное общеобразовательное учреждение
«Средняя общеобразовательная школа №65 им. Б.П. Агапитова
с углубленным изучением предметов музыкально-эстетического цикла»
города Магнитогорска

Приложение № 2
к ООПООО
ФГОС

ФОНД ОЦЕНОЧНЫХ СРЕДСТВ
по текущей аттестации
предмет: География
8 класс

составители

учителя географии

Евстифеева Ирина Хайдаровна

Щетка Наиля Шавгатовна

Магнитогорск

**Фонд оценочных средств
Контрольная работа № 1**

(текущий контроль)

Предмет: География

Класс: 8

Вариант 1

Выберите один правильный ответ из четырех предложенных.

1. Правильно выберите масштаб карты, если на ней расстояние между двумя населёнными пунктами 5см, а на местности 5 км:

1) 1:5000; 2) 1:1000000; 3) 1:10000; 4) 1:100000.

2. Самой полноводной рекой Африки является:

1) Нигер; 2) Конго; 3) Нил; 4) Замбези.

3. Назовите государство Азии:

1) Боливия; 2) Пакистан; 3) Дания; 4) Мексика.

4. Кто впервые доказал единство Мирового океана:

1) Эратосфен; 2) Колумб; 3) Кук; 4) Магеллан.

5. Какой стороне горизонта соответствует азимут величиной 135°:

1) северо-восток; 2) юго-запад; 3) северо-запад; 4) юго-восток.

6. Самые высокие температуры воздуха на земле отмечены в пределах:

1) Сахары; 2) Амазонии; 3) Аравийского п-ва; 4) Центральной Австралии.

7. Антарктида была открыта в 1820 году:

1) И.Ф. Крузенштерном и Ю.Ф. Лисянским; 2) Д. Куком и В. Янсоном; 3) Ф.Ф. Беллинсгаузеном и М.П. Лазаревым; 4) Ф. Амундсеном и Р. Скоттом.

8. Высочайшей вершиной Анд является гора:

1) Чимборасо; 2) Котопахи; 3) Аконкагуа; 4) Ильямпу.

9. Горную систему, образовавшуюся в кайнозое и расположенную в центре Европы, называют:

1) Пиренеями; 2) Кавказом; 3) Балканами; 4) Альпами.

10. Большинство рек Евразии имеют:

1) грунтовое питание; 2) снеговое; 3) дождевое; 4) ледниковое.

Напишите словами определения или понятия.

11. Как называются участки суши с абсолютной высотой от 0м-200м?

12. Ветер, постоянно дующий от тропиков в сторону экватора, называется...

13. Водные пространства, глубоко вдающиеся в сушу, называются...

14. Жители Южной Америки потомки от смешанных браков индейцев и негров, называются...

15. Как называется западная часть материка Евразии?

Установите соответствие.

16. Установите соответствие между крайними точками Северной Америки и их координатами:

1) м. Марьято

а) 73°с.ш., 94°30' з.д.

2) м. Принца-Уэльского

б) 53°с.ш., 56°з.д.

3) м. Мерчисон

в) 65°с.ш., 168°з.д.

4) м. Сент-Чарльз

г) 8°с.ш., 81°з.д.

17. Установите соответствие между платформами и формами рельефа:

1) Восточно-Европейская

а) Среднесибирское плоскогорье;

2) Индейская

б) Русская равнина;

3) Сибирская

в) Плоскогорье Декан.

Сконструируйте правильное утверждение.

18. Берега Австралии слабо изрезаны, при этом выделяются заливы Большой Австралийский и (1), на севере расположен крупнейший полуостров (2), самым большим островом материка является (3).

Слова для вставки:

- 1 – (Кампече), (Карпентария), (Бискайский)
- 2 – (Кейп-Йорк), (Юкатан), (Сьюард)
- 3 – (Сулавеси), (Тимор), (Тасмания).

Вариант 2.

Выберите один правильный ответ из четырех предложенных.

1. Если на географической карте отрезок длиной 1 см соответствует 200 км земной поверхности, то масштаб этой карты:

- 1) 1:200; 2) 1:200000; 3) 1:20000000; 4) 1:200000000.

2. Большинство из озёр Австралии:

1) сточные и пресные; 2) сточные солёные; 3) бессточные и пресные; 4) бессточные и солёные.

3. Назовите государство Африки:

- 1) Перу; 2) Дания; 3) Ливия; 4) Боливия.

4. Сколько соли можно получить из 1 тонны воды Персидского залива, если её солёность 40‰:

- 1) 40г, 2) 400г, 3) 4 кг, 4) 40 кг.

5. Какой стороне горизонта соответствует азимут величиной 270°:

- 1) север; 2) запад; 3) северо-запад; 4) юго-восток.

6. Постоянный ветер, дующий от тропиков в сторону 60° широт, называется:

1) муссоном; 2) пассатом; 3) западным переносом; 4) северо-восточным переносом.

7. Среди исследователей Центральной и Восточной Африки конца 19 века особое место занимает:

- 1) Н.М. Пржевальский; 2) Н.Н. Миклухо-Маклай; 3) В.В. Юнкер; 4) О.Ю. Шмидт.

8. Высочайшей вершиной Альп является гора:

- 1) Чимборасо; 2) Монблан; 3) Мак – Кинли; 4) Ильямпу.

9. Самый высокий континент на земле:

- 1) Евразия; 2) Антарктида; 3) Австралия; 4) Африка.

10. Природная зона Африки, где растут баобабы, акации, а среди травянистой растительности пасутся антилопы, буйволы, зебры, называется:

1) переменнно-влажные леса; 2) саванны и редколесья; 3) жестколистные леса и кустарники; 4) тропические пустыни и полупустыни.

Напишите словами определения или понятия.

11. Как называются участки суши с абсолютной высотой свыше 1000м.

12. Мощное тёплое течение у берегов Северной Америки, формируется под действием силы тяжести и ветра, называется...

13. Субтропические степи на лессовых равнинах Южной Америки, главным образом в Аргентине и Уругвае, называются...

14. Как называют южную полярную область Земли, расположенную до 50-60°ю.ш.?

15. Самое большое озеро Австралии, называется...

Установите соответствие.

16. Установите соответствие между крайними точками Австралии и их координатами:

- | | |
|---------------------|-----------------------|
| 1) м. Йорк | а) 38°ю.ш., 147°в.д., |
| 2) м. Юго-Восточный | б) 28°ю.ш., 154°в.д., |
| 3) м. Стип-Пойнт | в) 11°ю.ш., 143°в.д., |
| 4) м. Байрон | г) 26°ю.ш., 114°в.д. |

17. Установите соответствие между горными породами и месторождениями полезных ископаемых.

- | | |
|--|---|
| 1) Кристаллические породы платформ; | а) каменный уголь, нефть, природный газ, фосфориты. |
| 2) Продукты выветривания кристаллических пород | б) железные руды, свинец, титан, цинк, медь, уран. |
| 3) Осадочные породы предгорных прогибов | в) бокситы, железные руды осадочного происхождения. |

Сконструируйте правильное утверждение.

18. Остров вблизи Африки мало, крупнейший из них (1), на востоке в Индийский океан врезается полуостров (2), а на западе в сушу вдаётся (3) залив.

Слова для вставки:

- 1 – (Врангеля), (Мадагаскар), (Калимантан).
- 2 – (Пиренейский), (Лабрадор), (Сомали), (Флорида).
- 3 – (Гвинейский), (Бискайский), (Гудзонов), (Персидский).

СПЕЦИФИКАЦИЯ

1. Назначение ФОС итоговой контрольной работы.

Контрольные измерительные материалы позволяют установить уровень освоения семиклассниками Федерального компонента государственного стандарта основного общего образования по географии 7 класса.

2. Документы, определяющие содержание ФОС.

Содержание итоговой работы определяется на основе документов:

- Федеральный компонент государственного стандарта основного общего образования (приказ Минобрнауки России от 05.03.2004 №1089)
- Программа Домогацких Е.М. (Программа курсов «География» для 5-9 классов. - М.: Русское слово, 2012)

3. Подходы к отбору содержания, разработке структуры ФОС.

Отбор содержания, подлежащего проверке в итоговой работе осуществляется в соответствии с разделом «Обязательный минимум содержания основных образовательных программ» Федерального компонента государственных стандартов основного общего образования. В каждый вариант включены задания, проверяющие уровень знания содержания всех основных разделов курса Географии материков и океанов и выполнение основных требования к уровню подготовки семиклассников.

Распределение заданий контрольной работы по содержательным разделам курса географии

Разделы обязательного минимума содержания основного общего образования по географии	Количество заданий	Максимальный первичный балл	Процент максимального первичного балла за выполнение заданий данного раздела от максимального первичного балла за всю работу
ИСТОЧНИКИ ГЕОГРАФИЧЕСКОЙ ИНФОРМАЦИИ	5	5	23
ПРИРОДА ЗЕМЛИ И ЧЕЛОВЕК	6	6	23
МАТЕРИКИ, ОКЕАНЫ, НАРОДЫ И СТРАНЫ	7	11	54

4. Структура проверочной работы.

Работа состоит из 18 заданий. Задания проверяют знания, составляющие основу географической грамотности, а также способность применять знания и умения в контекстах, соответствующих основным разделам курса. Работа содержит 10 заданий с выбором одного верного ответа из четырех предложенных, 7 заданий с кратким ответом, 1 задания с выбором географических объектов и подставления их в заданный текст.

Распределение заданий проверочной работы по частям работы.

№ п/п	Части работы	Число заданий	Максимальный первичный балл	Тип заданий.
1	Часть I	10 простых	10	Выбор одного правильного ответа из 4.
2	Часть II	7 средней сложности	9	Определение данного понятия. Соотнести географические объекты и их координаты. Соотнести между собой объекты литосферы.
3	Часть III	1 сложное	3	Выбрать географические объекты и подставить их заданный текст.

5. Распределение заданий проверочной работы по содержанию и видам учебной деятельности.

Содержание проверочной работы можно разделить на 7 блоков обязательного минимума содержания образования.

Первый блок включает задания №1,5, по теме «География в современном мире. Математическая основа карт». Второй – задания №8,9,17 по теме «Литосфера». Третий – задания №6,11,13 по теме «Атмосфера». Четвертый – задания №4, 12 по теме «Гидросфера». Пятый – задания №2, 10, 14, 15, 16, 18, по теме «Материки». Шестой – задание №7, по теме «Исследователи». Седьмой – задание № 3, по теме «Страны мира».

Проверочная работа предусматривает разные виды учебной деятельности. Задания I части (1-15) позволяют проверить освоение наиболее значимого содержания: знание фактов и закономерностей по данным темам, элементарных причинно-следственных связей, сформированность простейших географических умений и пространственных представлений. Во II части представлены задания (16-17), в которых необходимо сделать множественный выбор. Они предполагают более глубокое знание фактов и сформированность пространственных представлений о конкретных территориях. Сложное задание III части направлено на проверку умения устанавливать связи между различными географическими объектами.

Распределение заданий по содержанию и видам учебной деятельности.

Содержание	Воспроизведение знаний	Применение знаний в знакомой ситуации	Применение знаний в измененной ситуации	Итого
География в современном мире. Математическая основа карт.	-	1(№1, №5)	-	2
Литосфера	2 (№8, №9)	-	1 (№17)	3
Атмосфера	1 (№6)	2 (№11, №13)	-	3
Гидросфера	1 (№4)	1 (№12)	-	2
Материки	2 (№2, №10)	2 (№14, №15)	2 (№16, №18)	6

Исследователи	1 (№7)		1
Страны мира		1 (№3)	1

7. Распределение заданий проверочной работы по уровню сложности.

Работа включает в себя 55% простых заданий, 39% средней сложности и 6% сложных.

8. Время выполнения работы.

На выполнение проверочной работы отводится 45 мину.

9. Число вариантов в работе.

Подготовлено два варианта, в которых даны однотипные задания на проверку одинаковых знаний, умений и тем курса.

10. Система оценивания отдельных заданий и работы в целом.

За каждый правильный ответ первой части (№1-10) ставится 1 балл. За правильное выполнение заданий II части, №11-15 – 1 балл, №16-17 – 2 балла. За правильно выбранный географический объект в 18 вопросе (III часть) – 1 балл, всего 3 балла. Максимальный балл за работу – 22 балла. «3» получает работа с 7-11, «4» - с 12-17, «5» - с 18-22 баллами.

Перечень проверяемых требований стандарта

№ задания	Уровень сложности	Максимальный балл	КЭС	Контролируемые элементы содержания
1	Базовый	1	1.1	Географические модели: глобус, географическая карта, план местности, их основные параметры и элементы (масштаб, условные знаки, способы картографического изображения, градусная сеть)
2	Базовый	1	3.3	Материки и страны. Основные черты природы Африки, Австралии, Северной и Южной Америки, Антарктиды, Евразии. Население материков. Природные ресурсы и их использование. Изменение природы под влиянием хозяйственной деятельности человека. Многообразие стран, их основные типы
3	Базовый	1	3.2	Население Земли. Численность населения Земли. Человеческие расы, этносы
4	Базовый	1	1.2	Выдающиеся географические исследования, открытия и путешествия
5	Базовый	1	1.1	Географические модели: глобус, географическая карта, план местности, их основные параметры и элементы (масштаб, условные знаки, способы картографического изображения, градусная сеть)
6	Базовый	1	2.4	Атмосфера. Состав, строение, циркуляция. Распределение тепла и влаги на Земле. Погода и климат. Изучение элементов погоды.

№ задания	Уровень сложности	Максимальный балл	КЭС	Контролируемые элементы содержания
7	Базовый	1	1.2	Выдающиеся географические исследования, открытия и путешествия
8	Базовый	1	2.2	Земная кора и литосфера. Состав, строение и развитие. Земная поверхность: формы рельефа суши, дна Мирового океана; Полезные ископаемые, зависимость их размещения от строения земной коры и рельефа. Минеральные ресурсы Земли, их виды и оценка
9	Базовый	1	2.2	Земная кора и литосфера. Состав, строение и развитие. Земная поверхность: формы рельефа суши, дна Мирового океана; Полезные ископаемые, зависимость их размещения от строения земной коры и рельефа. Минеральные ресурсы Земли, их виды и оценка
10	Базовый	1	2.3	Гидросфера, ее состав и строение. Мировой океан и его части, взаимодействие с атмосферой и сушей. Поверхностные и подземные воды суши. Ледники и многолетняя мерзлота. Водные ресурсы Земли
11	Базовый	1	1.1	Географические модели: глобус, географическая карта, план местности, их основные параметры и элементы (масштаб, условные знаки, способы картографического изображения, градусная сеть)
12	Базовый	1	2.4	Атмосфера. Состав, строение, циркуляция. Распределение тепла и влаги на Земле. Погода и климат. Изучение элементов погоды.
13	Базовый	1	2.3	Гидросфера, ее состав и строение. Мировой океан и его части, взаимодействие с атмосферой и сушей. Поверхностные и подземные воды суши. Ледники и многолетняя мерзлота. Водные ресурсы Земли
14	Базовый	1	3.2	Население Земли. Численность населения Земли. Человеческие расы, этносы
15	Базовый	1	3.3	Материки и страны. Основные черты природы Африки, Австралии, Северной и Южной Америки, Антарктиды, Евразии. Население материков. Природные ресурсы и их

№ задания	Уровень сложности	Максимальный балл	КЭС	Контролируемые элементы содержания
				использование. Изменение природы под влиянием хозяйственной деятельности человека. Многообразие стран, их основные типы
16	Повышенный	2	3.3	Материки и страны. Основные черты природы Африки, Австралии, Северной и Южной Америки, Антарктиды, Евразии. Население материков. Природные ресурсы и их использование. Изменение природы под влиянием хозяйственной деятельности человека. Многообразие стран, их основные типы
17	Повышенный	2	3.3	Материки и страны. Основные черты природы Африки, Австралии, Северной и Южной Америки, Антарктиды, Евразии. Население материков. Природные ресурсы и их использование. Изменение природы под влиянием хозяйственной деятельности человека. Многообразие стран, их основные типы
18	Повышенный	3	3.3	Материки и страны. Основные черты природы Африки, Австралии, Северной и Южной Америки, Антарктиды, Евразии. Население материков. Природные ресурсы и их использование. Изменение природы под влиянием хозяйственной деятельности человека. Многообразие стран, их основные типы

№ задания	Проверяемое требование	Тип задания	Кол-во ответов	Время выполнения задания
1	Уметь	Выбор	4	2 мин.
2	Знать/понимать	Выбор	4	2 мин.
3	Уметь	Выбор	4	2 мин.
4	Знать/понимать	Выбор	4	2 мин.
5	Уметь	Выбор	4	2 мин.
6	Знать/понимать	Выбор	4	2 мин.
7	Знать/понимать	Выбор	4	2 мин.
8	Знать/понимать	Выбор	4	2 мин.
9	Знать/понимать	Выбор	4	2 мин.
10	Знать/понимать	Выбор	4	2 мин.
11	Уметь	Дать краткий ответ	-	2 мин.
12	Уметь	Дать краткий ответ	-	2 мин.
13	Уметь	Дать краткий ответ	-	2 мин.
14	Уметь	Дать краткий ответ	-	2 мин.

15	Уметь	Дать краткий ответ	-	2 мин.
16	Использовать приобретенные знания и умения в практической деятельности и повседневной жизни	Соотнести	-	3 мин.
17	Использовать приобретенные знания и умения в практической деятельности и повседневной жизни	Соотнести	-	3 мин.
18	Использовать приобретенные знания и умения в практической деятельности и повседневной жизни	Выбрать географические объекты и вставить в текст	-	5 мин.

Фонд оценочных средств
Контрольная работа № 2

(текущий контроль)

Предмет: География

Класс: 8

1 вариант

1. Укажите крайнюю северную материковую точку России

- 1) мыс Челюскин; 2) Мыс Диксон; 3) Мыс Флигели; 4) Мыс Лопатка

2. С какой страной Россия не имеет сухопутных границ:

- 1) Украина; 2) Белоруссия; 3) Армения; 4) Азербайджан.

3. Выявите, какое время показывают часы в Москве (II часовой пояс), если известно, что в г. Норильске (VI часовой пояс) в данный момент 20 ч.

- 1) 16 ч.; 2) 24 ч.; 3) 2 ч.; 4) 17 ч.

4. Обширная область земной коры, обладающая устойчивостью, это –

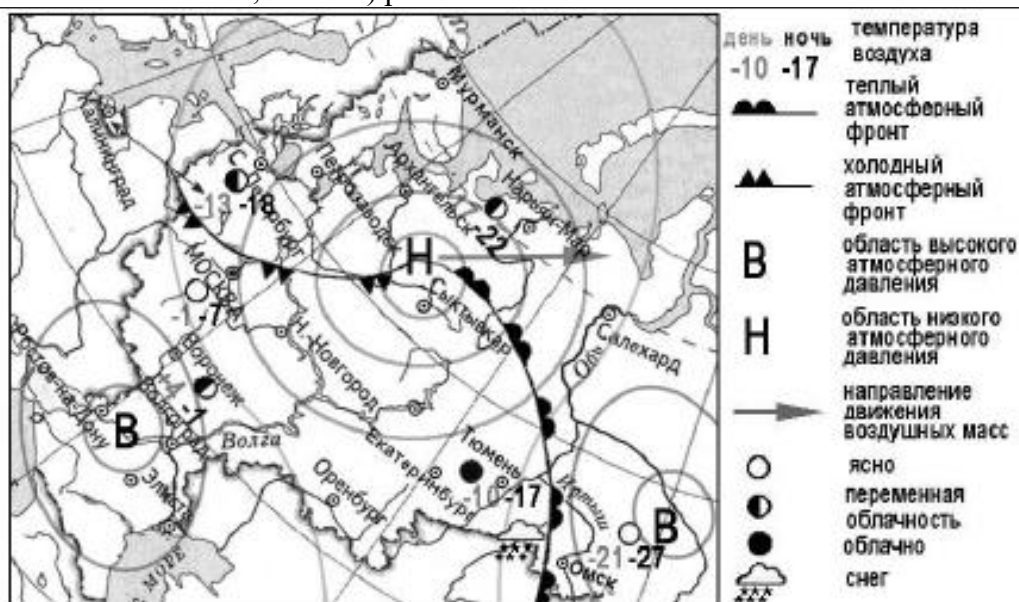
- 1) Платформа, 2) Горст, 3) Щит, 4) Морена

5. Западная Сибирь, Волго-Уральский район, Европейский Север, шельф Сахалина - это крупные ресурсные районы. Определите, запасы какого полезного ископаемого здесь сосредоточены

- 1) угля; 2) нефти и газа; 3) железных руд; 4) руд цветных металлов

6. Определите, какой из типов климата характеризуется следующим набором свойств: годовая амплитуда температур 50-60 °С, небольшая (0,2-0,3м) высота снежного покрова, господство антициклональных типов погоды

- 1) морской; 2) континентальный; 3) умеренно-континентальный; 4) резко континентальный.



7. Какой из перечисленных городов, показанных на карте, находится в зоне действия антициклона?

- 1) Архангельск; 2) Сыктывкар; 3) Ростов-на-Дону; 4) Нижний Новгород

8. Карта погоды составлена на 17 января. В каком из перечисленных городов, показанных на карте, на следующий день вероятно существенное похолодание?

- 1) Москва 2) Омск 3) Тюмень 4) Элиста

9. Определите, какие из перечисленных рек относятся к бассейну Северного Ледовитого океана

- 1) Дон, Кубань; 2) Волга, Терек, Урал; 3) Амур; 4) Лена, Енисей, Обь

10. Заполненное водой крупное естественное понижение земной поверхности – это:

- 1) болото 2) река 3) водохранилище 4) озеро

11. Амур, Буряя, Зея относятся к рекам с:

- 1) весенним половодьем, 3) летним половодьем,
2) паводочным режимом, 4) равномерным стоком.

12. Процесс разрушения почвы водой и ветром называется:

- 1) Агротехникой 2) Мелиорацией 3) Эрозией 4) Рекультивацией

13. Какая из перечисленных природных зон занимает наибольшую площадь в России?

- 1) лесотундра 2) тундра 3) тайга 4) степь

14. Группа студентов из Ростова-на-Дону занимается изучением экосистем крупных рек. Какой из перечисленных заповедников им необходимо посетить для изучения экосистем дельты одной из крупнейших рек Сибири?

- 1) Усть-Ленский 3) Печоро-Илычский
2) Тебердинский 4) Окский

15. Для зоны тундр характерны животные (выберите двоих):

- 1) песец 2) белый медведь, 3) лемминг, 4) бурый медведь, 5) лось.

16. Воссоздайте правильную последовательность почвенных горизонтов от поверхности вглубь земли?

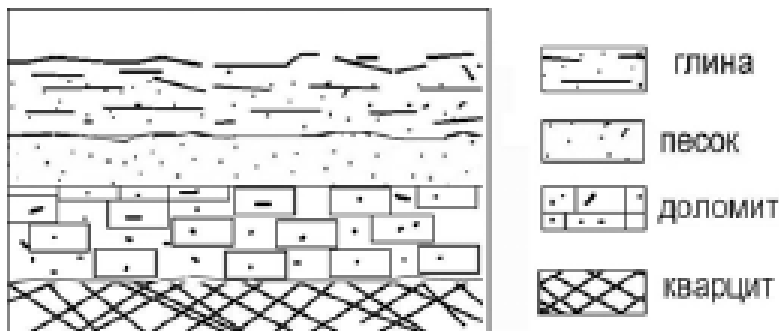
- 1) материнская порода 2) гумусовый 3) вымывания 4) вмывания

17. Какой зональный тип почв формируется под хвойными лесами в условиях избыточного увлажнения и умеренно-теплого лета?

18. Во время экскурсии учащиеся сделали схематическую зарисовку залегания горных пород на обрыве у берега реки.

Расположите показанные на рисунке слои горных пород в порядке **возрастания** их возраста (от самого молодого до самого старого).

Запишите в таблицу получившуюся последовательность букв.



- А) глина
Б) кварцит
В) песок

1	2	3
---	---	---

19. Перечислите все известные вам причины большого количества озер в Карелии и на Кольском полуострове.

2 вариант

1. Укажите крайнюю восточную материковую точку России

- 1) Мыс Челюскин; 2) Мыс Дежнева; 3) Гора Базардюзю; 4) Мыс Флигели

2. Самая короткая граница России с государством:

- 1) Грузия; 2) КНДР; 3) Азербайджан; 4) Китай.

3. Выявите, какое время показывают часы в Хабаровске (IX часовой пояс), если известно, что в г. Челябинске (IV часовой пояс) в данный момент 7 ч.

- 1) 16 ч.; 2) 24 ч.; 3) 12 ч.; 4) 13ч.

4. Участок древней платформы, где кристаллический фундамент выходит на поверхность земли это –

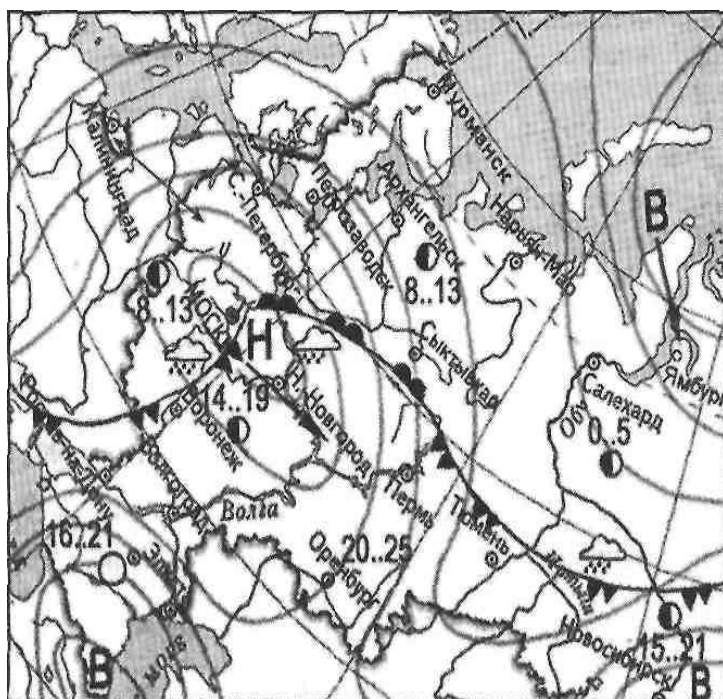
- 1) Щит, 2) Горст, 3) Грабен, 4) Морена

5. Укажите, какой из природных районов России наиболее обеспечен гидроэнергетическими ресурсами

- 1) Восточно-Европейская равнина; 2) Западная Сибирь;
3) Средняя и Северо-Восточная Сибирь; 4) Дальний Восток

6. Укажите, какой из перечисленных населенных пунктов имеет среднеянварскую температуру воздуха -24°C

- 1) Москва; 2) Мурманск; 3) Воркута; 4) Якутск



	атмосферный фронт
	- холодный атмосферный фронт
	- область высокого атмосферного давления
	- область низкого атмосферного давления
	- направление движения воздушных масс
	ясно
	переменная облачность
	облачно
	дождь

Их на карте, находится в зоне действия антициклона?

- 1) Москва; 2) Нижний Новгород; 3) Новосибирск; 4) Санкт-Петербург.

8. Карта погоды составлена на 13 мая. В каком из перечисленных городов, показанных на карте, на следующий день вероятно существенное похолодание?

- 1) Воронеж; 2) Сыктывкар; 3) Москва; 4) Санкт-Петербург.

9. Определите, какие из перечисленных рек относятся к бассейну Атлантического океана

1) Дон, Кубань; 2) Волга, Терек, Урал; 3) Амур; 4) Лена, Енисей, Обь

10. Избыточно увлажнённый участок суши с влаголюбивой растительностью – это:

1) водохранилище 2) река 3) болото 4) озеро

11. Ежегодно повторяющийся подъём уровня воды в реке – это:

1) паводок, 2) режим, 3) межень, 4) половодье.

12. Оцените причину массового развития оврагов в Черноземье

1) вырубка лесов; 3) распашка земель;
2) строительство дорог; 4) осушение болот

13. Какой из перечисленных типов почв характерен для природной зоны тайги России:

1) подзолистые 2) серые лесные 3) каштановые 4) черноземы.

14. Группа туристов из США хочет своими глазами увидеть природу сибирской тайги и посмотреть окрестности уникального озера Байкал. Какой из перечисленных заповедников им необходимо посетить?

1) Тунгусский; 2) Баргузинский; 3) Буреинский; 4) Дагестанский.

15. Растительный мир зоны тундр в основном представлен следующими растениями (выберите два):

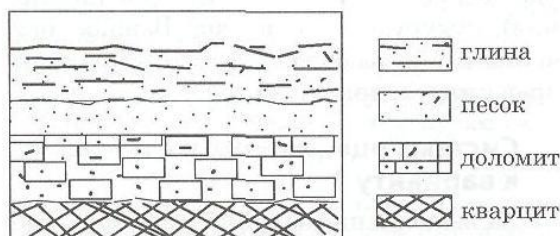
1) кустарничками; 3) лиственными деревьям 5) травами;
2) мхами; 4) хвойными деревьями

16. Перечислите правильный порядок смены типов почв с севера на юг:

1) каштановые; 2) дерно-подзолистые; 3) тундрово-глеевые; 4) подзолистые

17. В одной из природных зон растения имеют следующие особенности: стелющиеся и карликовые формы, многолетний цикл развития, преобладают мхи и лишайники. Определите природную зону.

18. Во время экскурсии учащиеся сделали схематическую зарисовку залегания горных пород на обрыве у берега реки



Расположите показанные на рисунке слои горных пород в порядке возрастания их возраста (от самого молодого до самого старого).

Запишите в таблицу получившуюся последовательность букв.

А) глина; Б) кварцит; В) песок.

1	2	3

19. Какие факторы в наибольшей степени затрудняет добычу нефти и газа в Западной Сибири? (приведите как можно больше известных вам факторов)

1. Назначение ФОС итоговой контрольной работы.

Контрольные измерительные материалы позволяют установить уровень освоения восьмиклассниками Федерального компонента государственного стандарта основного общего образования по географии 8 класса.

2. Документы, определяющие содержание ФОС.

Содержание итоговой работы определяется на основе документов:

- Федеральный компонент государственного стандарта основного общего образования (приказ Минобрнауки России от 05.03.2004 №1089)
- Примерная программа основного общего образования по географии, одобренная Министерством образования Российской Федерации и изданной в сборнике нормативных документов. География. Примерные программы по географии; Москва; «Дрофа», 2009.

3. Подходы к отбору содержания, разработке структуры ФОС.

Отбор содержания, подлежащего проверке в итоговой работе осуществляется в соответствии с разделом «Обязательный минимум содержания основных образовательных программ» Федерального компонента государственных стандартов основного общего образования. В каждый вариант включены задания, проверяющие уровень знания содержания всех основных разделов курса Физической географии России и выполнение основных требования к уровню подготовки восьмиклассников.

4. Структура проверочной работы.

Работа состоит из 19 заданий. Задания проверяют знания, составляющие основу географической грамотности, а также способность применять знания и умения в контекстах, соответствующих основным разделам курса. Работа содержит 14 заданий с выбором одного верного ответа из четырех предложенных, 1 задания с выбором двух правильных ответов из 5, 1 задание с кратким ответом, 2 задания на определение правильного порядка географического явления, 1 задание с развернутым ответом, в которых требуется найти причинно-следственные связи данного явления.

Распределение заданий проверочной работы по частям работы.

№ п/п	Части работы	Число заданий	Максимальный первичный балл	Тип заданий.
1	Часть I	14 простых	14	Выбор одного правильного ответа из 4.
2	Часть II	4 средней сложности	6	Выбор двух правильных ответов из 5. Дать краткий ответ. Определить правильные порядок географического явления.
3	Часть III	1 сложное	3	Найти причинно-следственные связи заданного явления природы.

5. Распределение заданий проверочной работы по содержанию и видам учебной деятельности.

Содержание проверочной работы можно разделить на 6 блоков обязательного минимума содержания образования.

Первый блок включает задания №1-3, по теме «Россия на карте мира». Второй – задания №4, 5, 18 по теме «Геологическое строение и рельеф». Третий – задания №6-8 по теме «Климат России». Четвертый – задания №9, 10, 11, 19 по теме «Внутренние воды». Пятый – задания №12, 16, 17 по теме «Почвы». Шестой – задания №13-15, по теме «Природные зоны».

Проверочная работа предусматривает разные виды учебной деятельности. Задания I части (1-14 и 16) позволяют проверить освоение наиболее значимого содержания: знание фактов и закономерностей по данным темам, элементарных причинно-следственных связей, сформированность простейших географических умений

и пространственных представлений. Во II части представлены задания (15, 17, 18), в которых необходимо сделать множественный выбор. Они предполагают более глубокое знание фактов и сформированность пространственных представлений о конкретных территориях. Сложное задание III части (19) направлено на проверку умения выявлять причинно-следственные связи.

**Распределение заданий по содержанию
и видам учебной деятельности.**

Содержание	Воспроизведе ние знаний	Применение знаний в знакомой ситуации	Применение знаний в измененной ситуации	Итого
Россия на карте мира.	2 (№1, №2)	1 (№3)		3
Геологическое строение и рельеф	2 (№4)	1 (№5)	1 (№18)	3
Климат России	-	3 (№6, №7, №8)	-	3
Внутренние воды	1 (№10)	2 (№9, №11)	1 (№19)	4
Почвы	1 (№12)	2 (№16, №17)		3
Природные зоны	2 (№13, №15)	1 (№14)		3

7. Распределение заданий проверочной работы по уровню сложности.

Работа включает в себя 74% простых заданий, 21% средней сложности и 5% сложных.

8. Время выполнения работы.

На выполнение проверочной работы отводится 45 мину.

9. Число вариантов в работе.

Подготовлено два варианта, в которых даны однотипные задания на проверку одинаковых знаний, умений и тем курса.

10. Система оценивания отдельных заданий и работы в целом.

За каждый правильный ответ первой части (№1-14) ставится 1 балл. За правильное выполнение каждого из заданий II части, №15, 17 – 1 балл, №16, 18 – 2 балла. За правильно названную причину в 19 вопросе (III часть) – 1 балл, всего 3 балла. Максимальный балл за работу – 23 балла. «3» получает работа с 7-11, «4» - с 12-17, «5» - с 18-23 баллами.

Перечень проверяемых требований стандарта

№ задания	Уровень сложности	Максимальный балл	КЭС	Контролируемые элементы содержания
1	Базовый	1	5.1.1	Территория и акватория, морские и сухопутные границы
2	Базовый	1	5.1.1, 5.1.2, 5.1.3	Территория и акватория, морские и сухопутные границы, Часовые пояса, Административно-территориальное устройство России
3	Базовый	1	5.1.2	Часовые пояса
4	Базовый	1	5.2.1	Особенности геологического строения и распространения крупных форм рельефа
5	Базовый	1	5.5	Природно-хозяйственное районирование России. Географические особенности отдельных районов и регионов: Север и Северо-Запад, Центральная Россия,

№ задания	Уровень сложности	Максимальный балл	КЭС	Контролируемые элементы содержания
				Поволжье, Юг Европейской части страны, Урал, Сибирь и Дальний Восток. Географическое положение регионов, их природный, человеческий и хозяйственный потенциал
6	Базовый	1	5.2.2	Типы климатов, факторы их формирования, климатические пояса. Климат и хозяйственная деятельность людей. Многолетняя мерзлота
7	Базовый	1	5.2.2	Типы климатов, факторы их формирования, климатические пояса. Климат и хозяйственная деятельность людей. Многолетняя мерзлота
8	Базовый	1	5.2.2	Типы климатов, факторы их формирования, климатические пояса. Климат и хозяйственная деятельность людей. Многолетняя мерзлота
9	Базовый	1	5.2.3	Внутренние воды и водные ресурсы, особенности их размещения на территории страны
10	Базовый	1	5.2.3	Внутренние воды и водные ресурсы, особенности их размещения на территории страны
11	Базовый	1	5.2.3	Внутренние воды и водные ресурсы, особенности их размещения на территории страны
12	Базовый	1	5.2.5	Почвы и почвенные ресурсы. Меры по сохранению плодородия почв
13	Базовый	1	5.2.6	Растительный и животный мир России. Природные зоны. Высотная поясность
14	Базовый	1	4.1, 5.5	Влияние хозяйственной деятельности людей на природу, Природно-хозяйственное районирование России. Географические особенности отдельных районов и регионов: Север и Северо-Запад, Центральная Россия, Поволжье, Юг Европейской части страны, Урал, Сибирь и Дальний Восток. Географическое положение регионов, их природный, человеческий и хозяйственный потенциал
15	Базовый	1	5.2.6	Растительный и животный мир России. Природные зоны. Высотная поясность
16	Повышенный	2	5.2.5	Почвы и почвенные ресурсы. Меры по сохранению плодородия почв
17	Базовый	1	5.2.5	Почвы и почвенные ресурсы. Меры по сохранению плодородия почв

№ задания	Уровень сложности	Максимальный балл	КЭС	Контролируемые элементы содержания
18	Повышенный	2	5.2.1	Особенности геологического строения и распространения крупных форм рельефа
19	Повышенный	3	5.2.3	Внутренние воды и водные ресурсы, особенности их размещения на территории страны

№ задания	Проверяемое требование	Тип задания	Количество ответов	Время выполнения задания.
1	Знать/понимать	Выбор	4	2 мин.
2	Знать/понимать	Выбор	4	2 мин.
3	Уметь	Выбор	4	2 мин.
4	Знать/понимать	Выбор	4	2 мин.
5	Уметь	Выбор	4	2 мин.
6	Уметь	Выбор	4	2 мин.
7	Уметь	Выбор	4	2 мин.
8	Уметь	Выбор	4	2 мин.
9	Уметь	Выбор	4	2 мин.
10	Знать/понимать	Выбор	4	2 мин.
11	Уметь	Выбор	4	2 мин.
12	Знать/понимать	Выбор	4	2 мин.
13	Знать/понимать	Выбор	4	2 мин.
14	Уметь	Выбор	4	2 мин.
15	Знать/понимать	Выбор	5	2 мин.
16	Уметь	Определить правильные порядок географического явления.	4	3 мин.
17	Уметь	Дать краткий ответ	-	2 мин.
18	Использовать приобретенные знания и умения в практической деятельности и повседневной жизни	Определить правильные порядок географического явления.	3	3 мин.
19	Использовать приобретенные знания и умения в практической деятельности и повседневной жизни	Найти причинно-следственные связи заданного явления природы.	-	5